

# I Konkurs Humanistyczny „Maturus”

## TEST ELIMINACYJNY

Dokończ zdania wpisując w wykropkowane pola jedno lub kilka słów

1. Rajski ogród, w którym mieszkali Adam i Ewa nazywał się .....
2. Po Kainie i Ablu, Ewa urodziła następnego syna, który miał na imię .....
3. Arka Noego wylądowała na górze .....
4. Syn, którego Abraham miał złożyć Bogu w ofierze miał na imię .....
5. Mojżesz otrzymał od Boga Dekalog na górze .....
6. Zakaz zabijania to przykazanie numer .....
7. Jezus wychował się w miejscowości o nazwie .....
8. Prorok, który ochrzcił Jezusa miał na imię .....
9. Córka Herodiady na urodzinach Heroda poprosiła go o .....
10. Ciało Jezusa po zdjęciu z krzyża zostało złożone w grobowcu Józefa z .....

W ostatniej kolumnie wpisz F jeśli zdanie jest fałszywe, P jeśli prawdziwe lub BD jeśli brak danych

11.	Adam i Ewa za namową węża zjedli jabłko z zakazanego drzewa	
12.	Człowiekiem, który wyprowadził Żydów z Egiptu był Mojżesz	
13.	Modlitwę „Ojcze nasz” jako pierwszy wypowiedział Jezus Chrystus	
14.	Judasz zdradził Jezusa za 20 srebrników	
15.	Po zmartwychwstaniu Chrystus ukazał się apostołom w wieczerniku	


Zaznacz poprawną odpowiedź podkreślając ją pojedynczą linią. Jeśli się pomylisz otocz zaznaczoną odpowiedź obwódką i podkreśl właściwą. Nie wolno pomylić się drugi raz.

16. Człękkształtny stwór z jednym okiem na czole  
a) Minotaur b) Centaur c) Cyklop d) Tytan
17. Koza, która karmiła Zeusa gdy był dzieckiem  
a) Amaltea b) Ifigenia c) Kasandra d) Pandora
18. Kim była dla Zeusa Hera?  
a) córką b) matką c) siostrą d) obcą osobą
19. Kaduceusz Hermesa to nazwa:  
a) miecza b) włóczni c) laski d) instrumentu
20. Igrzyska sportowe odbywały się:  
a) w Olimpii b) na górze Olimp c) u podnóża Olimpu d) w Atenach
21. Bóstwo słońca umiejące przewidywać przyszłość to  
a) Pytia b) Delfa c) Apollo d) Atena

Wpisz odpowiednie numery z prawej kolumny w odpowiednie puste miejsca w lewej kolumnie

22.	Menelaos		1	Odyseusz
23.	Penelopa		2	Eurydyka
24.	Orfeusz		3	Dafne
25.	Apollo		4	Helena

Podpisz ilustracje.



26 .....



27.....




28.....



29 .....



30 .....



31.....



32.....



33.....



34.....



35.....



36.....



37.....



38.....



39.....



40.....



41.....

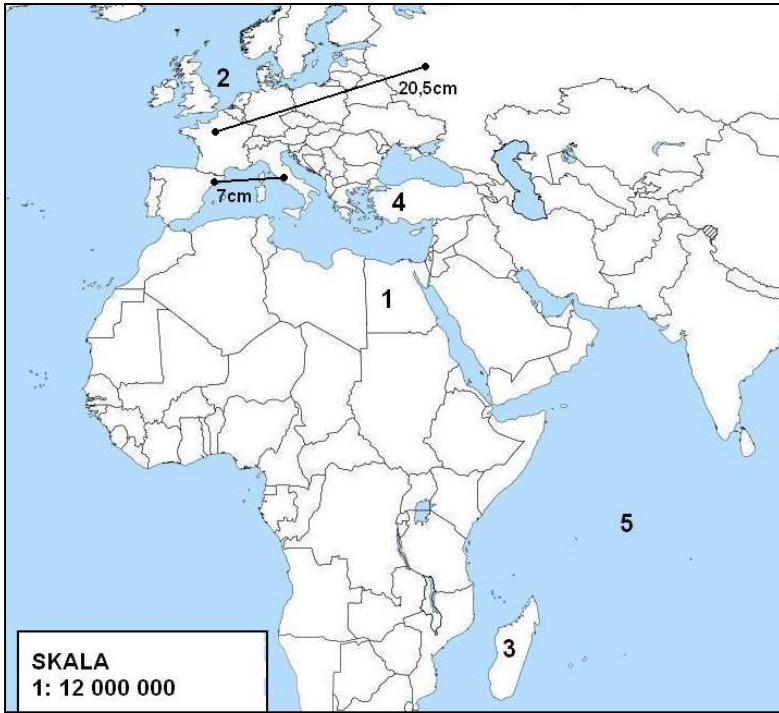
Podaj nazwę i autora utworu muzycznego

42. ....

43. ....

44. ....

45. ....



- Na podstawie mapy wpisz odpowiedzi:
- 46. (państwo nr 1) .....
  - 47. (morze nr 2) .....
  - 48. (wyspa nr 3) .....
  - 49. (półwysep nr 4) .....
  - 50. (ocean nr 5) .....

Oblicz jaka jest odległość między podanymi miastami. Odpowiedź podaj w kilometrach.

- 51. Paryż–Moskwa .....km
- 52. Barcelona–Rzym .....km

Uzupełnij zdania. Odpowiedzi muszą mieć formę liczb rzymskich.

- 53. Między bitwą pod Akcjum w XXXI r. p.n.e. a bitwą pod Grunwaldem w MCDX r. minęło ..... lat.

Wiele państw na świecie organizuje swoje armie według podobnych zasad. Jedną z podstawowych jednostek jest pluton liczący około 40 żołnierzy. Trzy plutony to kompania. Trzy kompanie to batalion. Trzy bataliony to pułk. Trzy pułki to brygada. Trzy brygady to dywizja. Trzy dywizje to korpus. Trzy korpusy to armia. W praktyce każda armia ma swoją specyfikę, ale przyjmijmy, że mamy armię zorganizowaną dokładnie według podanego schematu.

- 54. Ilu żołnierzy będzie liczyła ta armia? .....
- 55. Ile kompanii znajdzie się w jednym korpusie? .....

Wpisz odpowiednie numery z prawej kolumny w odpowiednie puste miejsca w lewej kolumnie

56.	<i>Dura lex, sed lex</i>		1	przez ciernie do gwiazd
57.	<i>ancien régime</i>		2	mój dom jest moją twierdzą
58.	<i>Per aspera ad astra</i>		3	twarde prawo, ale prawo
59.	<i>Lex retro non agit</i>		4	dawny system rządów
60.	<i>my house is my castle</i>		5	prawo nie działa wstecz