

I Konkurs Humanistyczny „Maturus”

TEST FINAŁOWY 26 lutego 2010

Dokończ zdania wpisując w wykropkowane pola jedno lub kilka słów.

1. Pierwszy człowiek stworzony przez Boga miał na imię
2. Żona Lota w czasie ucieczki z Sodomy zamieniła się w
3. „Kto jest bez grzechu, niech pierwszy rzuci”.
4. Piotr znaczy:
5. Emmanuel znaczy:
6. W czasach narodzin Jezusa w Judei rządził król
7. Józef, opiekun Jezusa, z zawodu był
8. Jezus przebywał na pustyni przez dni.
9. Mojżesz przeprowadził Żydów przez Morze
10. 7 przykazanie brzmi:

W ostatniej kolumnie wpisz F jeśli zdanie jest fałszywe lub P jeśli prawdziwe.

11.	Pierwsi uczniowie, którzy poszli za Jezusem to Piotr i Jan	
12.	Maria, Józef i nowonarodzony Jezus uciekli do Egiptu	
13.	Wnuk Abrahama miał na imię Izrael	
14.	Jezus wychował się w Betlejem	
15.	Jednym z ptaków wypuszczonych przez Noego w czasie potopu był kruk	

Zaznacz poprawną odpowiedź podkreślając ją pojedynczą linią. Jeśli się pomylisz otocz zaznaczoną odpowiedź obwódką i podkreśl właściwą. Nie wolno pomylić się drugi raz.

16. Róg obfitości zwano rogiem:
a) Alkmeny b) Amaltei c) Antygony d) Aresa
17. Matką Tyfona była:
a) Hera b) Gaja c) Atena d) Hestia
18. Który z bogów nie chciał początkowo podporządkować się Zeusowi:
a) Hades b) Posejdon c) Dionizos d) Hefajstos
19. Ośle uszy wyrosły:
a) Marsjasowi b) Hermesowi c) Midasowi d) Dedalowi
20. Kto musiał za karę wpychać głaz na szczyt góry:
a) Syzyf b) Hiacynt c) Adonis d) Ikar
21. Małżonką Hefajstosa była:
a) Afrodyta b) Atena c) Artemida d) Iris

Wpisz odpowiednie numery z prawej kolumny w odpowiednie puste miejsca w lewej kolumnie.

22.	Eros		1	Adonis
23.	Afrodyta		2	Persefona
24.	Hades		3	Maja
25.	Zeus		4	Psyche

Podpisz ilustracje.



26

nazwisko



27.....



28.....




29

nazwy trzech okrętów



30


jaka to wojna



31.....




32.....



33.....




34.....




35.....



36.....



37.....



38.....



39.....



40.....



41.....

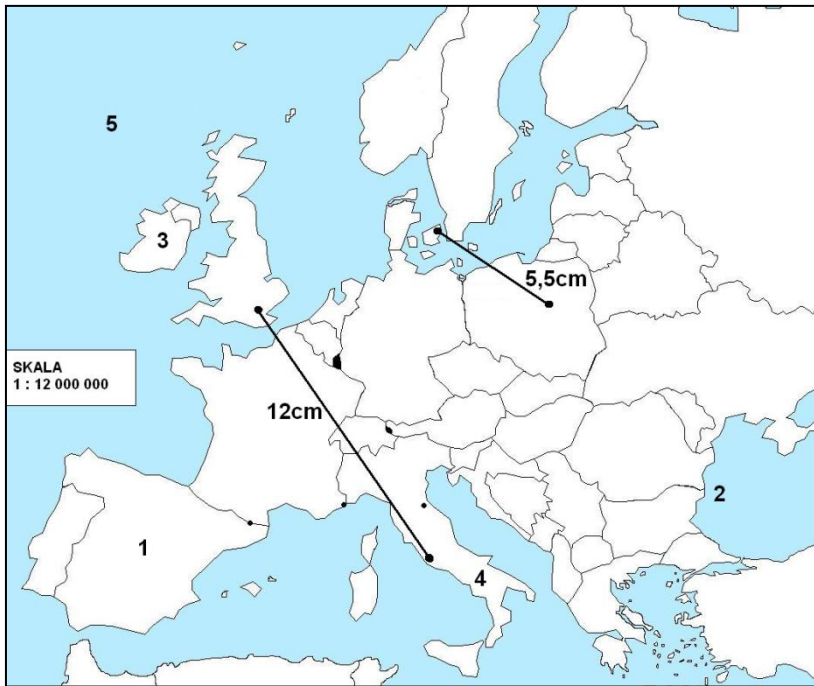
Podaj nazwę i autora utworu muzycznego

42.

43.

44.

45.



Na podstawie mapy wpisz odpowiedzi:

- 46. (państwo nr 1)
- 47. (morze nr 2)
- 48. (wyspa nr 3)
- 49. (półwysep nr 4)
- 50. (ocean nr 5)

Oblicz jaka jest odległość między podanymi miastami. Odpowiedź podaj w kilometrach.

- 51. Londyn-Rzym km
- 52. Kopenhaga-Warszawa km

Uzupełnij zdanie. Odpowiedź musi być podana za pomocą liczby rzymskiej.

53. Między bitwą pod Kluszynem w MDCX r. a bitwą pod Raławicami w MDCCXCIV r. minęło lat.

Na podstawie tekstu ze Starego Testamentu odpowiedz na pytania.

¹ Oto rodowód potomków Adama. Gdy Bóg stworzył człowieka, na podobieństwo Boga stworzył go; ² stworzył mężczyznę i niewiastę, pobłogosławił ich i dał im nazwę "ludzie", wtedy gdy ich stworzył. ³ Gdy Adam miał sto trzydzieści lat, urodził mu się syn, podobny do niego jako jego obraz, i dał mu na imię Set. ⁴ A po urodzeniu się Seta żył Adam osiemset lat i miał synów oraz córki. ⁵ Ogólna liczba lat, które Adam przeżył, była dziewięćset trzydzieści. I umarł. ⁶ Gdy Set miał sto pięć lat, urodził mu się syn Enosz. ⁷ A po urodzeniu się Enosza żył osiemset siedem lat i miał synów oraz córki. ⁸ I umarł Set, przeżywszy ogółem dziewięćset dwanaście lat. ⁹ Gdy Enosz miał dziewięćdziesiąt lat, urodził mu się syn Kenan. ¹⁰ I żył Enosz po urodzeniu się Kenana osiemset piętnaście lat, i miał synów oraz córki. ¹¹ Enosz umarł, przeżywszy ogółem dziewięćset pięć lat.

54. Ile lat miał Adam, gdy urodził mu się prawnuk Kenan?

55. Ile lat miał Kenan gdy umarł jego dziadek Set?

Wpisz numery z prawej kolumny w odpowiednie puste miejsca w lewej kolumnie

56.	<i>God Save the Queen</i>		1	chość ze mną
57.	<i>historia vitae magistra</i>		2	i tak dalej
58.	<i>vademecum</i>		3	nietakt
59.	<i>faux pas</i>		4	tytuł hymnu Wielkiej Brytanii
60.	<i>et cetera</i>		5	Historia nauczycielką życia