

KOD

--	--	--

DATA URODZENIA

--	--	--	--	--	--	--

dzień miesiąc rok

MATURUS 2012
egzamin eliminacyjny dla szkół podstawowych

Sprawdź czy arkusz egzaminacyjny jest dobrze wydrukowany. Pisz konkretnie i czytelnie. Używaj długopisu lub pióra o kolorze czarnym bądź niebieskim. Nie używaj korektora. Odpowiedź błędną skreśl i obok zapisz właściwą. Działania matematyczne wykonaj w wolnym miejscu arkusza. Gdy pytanie dotyczy podania osoby, zawsze podaj imię i nazwisko. Nazwiska obce o trudnej pisowni można zapisywać fonetycznie (np. Szekspir).

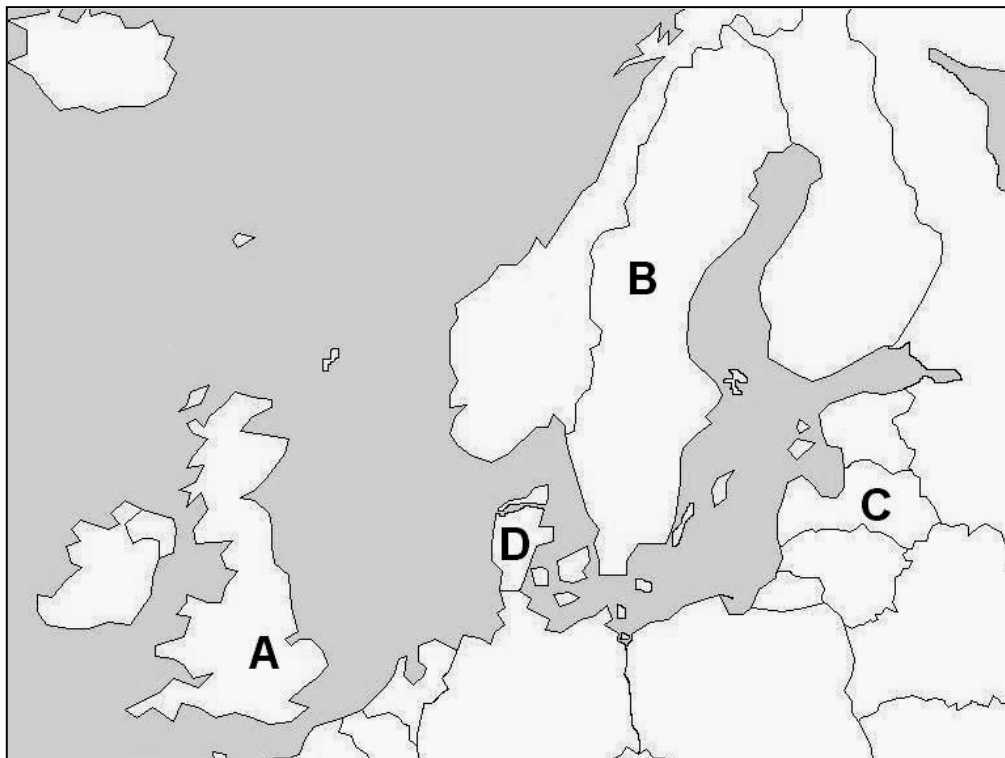
Czas – 60 minut

1. Podaj nazwę, której używają Żydzi, dla określenia pięciu pierwszych ksiąg Biblii.
2. Którą księgę Biblii oznacza się skrótem Joz?
3. W którym dniu Bóg stworzył Adama i Ewę?
4. Co zrobiło siedem chudych krów w biblijnym śnie faraona?
5. Kto jest autorem słów: „*Pan jest moim pasterzem, nie brak mi niczego. Pozwala mi leżeć na zielonych pastwiskach.*”
6. Gdzie przechowywano Arkę Przymierza od czasów Salomona?
7. Podaj nazwę meczetu postawionego przez muzułmanów w miejscu, gdzie niegdyś wznosiła się Świątynia Salomona?
8. Podaj nazwę krainy, w której położone jest miasto Nazaret?
9. Co powiedział głos Boga, gdy Jezus został ochrzczony? „Ty jesteś
....., w Tobie”
10. Dokończ słowa Jezusa: „Odmierzą wam taką miarą”
11. Dokończ słowa Jezusa: „Wielu proroków i królów pragnęło ujrzeć.....
....., i usłyszeć”
12. W którym mieście zginął Jezus Chrystus?
13. Podkreśl imię, którego nie nosił żaden z Apostołów: Jan, Marek, Jakub, Szczepan, Tomasz.
14. Co to jest besa?
15. Co to jest lazaret?
16. Przetłumacz: pardon -
17. Przetłumacz: dreamteam -
18. Przetłumacz: better late than never -
19. Co po polsku oznacza skrót VIP?
20. Podaj polski tytuł hymnu USA.
21. W którym stylu architektonicznym, głowica kolumny przypomina muszlę ślimaka?
22. Podaj nazwę rowu otaczającego zamek i napełnionego wodą.
23. Jak inaczej nazywa się gargulce?
24. Jak nazywamy podstawę pod pomnikiem?
25. Jak nazywamy obraz ułożony na ścianie lub podłodze z kolorowych kamyczków?
26. Jaki kształt miała tarcza hoplity?
27. Podaj nazwę długiego miecza japońskiego.
28. Podaj nazwę ostrza nakładanego na karabin, by można nim było walczyć jak włócznią.
29. Jakie oznaczenie ma amerykański myśliwiec niewykrywalny przez radar?
30. Który zespół skomponował utwór „Yellow submarine”?
31. Kto skomponował „Walc minutowy”?

32. Na której wyspie odnaleziono pozbawiony rąk, posąg bogini Nike?
33. Podaj tytuł jednego z obrazów Sandro Botticellego.
34. Podaj autora obrazu „Madonna sykstyńska”.
35. Podaj autora posągu „Brama piekieł”.
36. Na mapie świata w skali 1:130 000 000 między Korsyką, a Cejlonem jest 5,5 centymetra. Ile kilometrów w linii prostej dzieli obie wyspy?

ILUSTRACJE

37. Co widać na ilustracji E?
38. Podaj nazwę elementu architektonicznego na ilustracji F.
39. W jakim stylu zbudowana jest brama na ilustracji G?
40. Podaj nazwę maszyny na ilustracji H.
41. Podaj nazwę żołnierza na ilustracji I.
42. Podaj nazwę broni na ilustracji J.
43. Z jakiego kraju pochodzi broń z ilustracji K?
44. Podaj nazwę kwiatu na ilustracji L?
45. Podaj nazwę warzywa z ilustracji M?
46. N - Kim jest dla dziecka w koszyku, dziewczynka w zaroślach?
47. O - Czyja głowa leży na tacy?
48. P - Podaj imię i nazwisko siedzącego mężczyzny.
49. R - Podaj autora i nazwę rzeźby.
50. S - Podaj autora i tytuł obrazu.
51. T - Podaj imię świętej, w którą mierzy strzałą anioł Berniniego.
52. U - Podaj imię postaci widocznej na ilustracji.



MAPA

Punkty 53-56.

Podaj nazwy państw:


- A.....
 B
 C
 D

Punkty 57-60.


Podpisz na mapie Irlandię, Islandię, Finlandię i Białoruś. Jeśli nazwa nie zmieści się na terytorium danego państwa, zapisz ją obok i wskaż kraj strzałką.



E



F



G



H



L



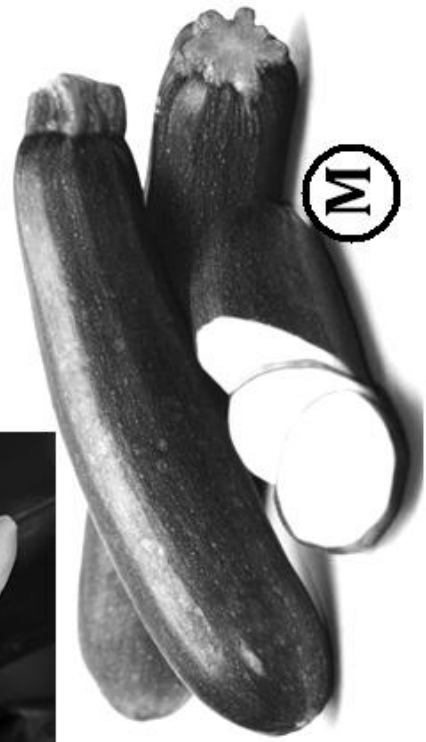
J




I



K



M



klucz

MATURUS 2012

egzamin eliminacyjny dla szkół podstawowych

Jeżeli odpowiedź ucznia nie jest identyczna z podaną w kluczu, ale jej sens jest prawidłowy, można przyznać punkt. W przypadku odpowiedzi połowicznie poprawnych, można przyznać pół punktu. Na przykład, gdy uczeń nie poda imienia, ale poda właściwe nazwisko albo, gdy tylko lekko przekreśli nazwisko lub zrobi literówkę. Nie dajemy punktu, gdy poda imię, a nie poda nazwiska lub je przekreśli zupełnie. Gdy pytanie wymaga podania dwóch odpowiedzi (np. osoby sportowca i dyscypliny, którą uprawiał), a uczeń poda prawidłowo tylko jedną z nich, też dajemy pół punktu.

- | | |
|--|--|
| 1. Tora / Prawo | 31. Fryderyk Chopin |
| 2. Jozuego | 32. Samotraka |
| 3. 6 | 33. Zwiastowanie / Narodziny Wenus /
Wiosna |
| 4. Zjadły krowy tłuste. | 34. Rafael Santi |
| 5. Dawid | 35. August Rodin |
| 6. W Świątyni Jerozolimskiej / Świątyni
Salomona | 36. 7150 km |
| 7. Al-Aksa | 37. Obelisk |
| 8. Galilea | 38. Maswerki |
| 9. Ty jesteś mój Syn umiłowany, w Tobie
mam upodobanie” | 39. Romańskim |
| 10. Dokończ słowa Jezusa: „Odmierzają
wam taką miarą, jaką wy mierzycie”. | 40. Wieża oblężnicza |
| 11. Dokończ słowa Jezusa: „Wielu
proroków i królów pragnęło ujrzeć to co wy
widzicie, a nie ujrzeli, i usłyszeć to co wy
słyszycie, a nie usłyszeli”. | 41. Janczar |
| 12. Jerozolima | 42. Winchester |
| 13. Szczepan | 43. Wielkiej Brytanii / Anglii |
| 14. Znaczny spadek ceny papierów
wartościowych na giełdzie | 44. Narcyz |
| 15. Szpital wojskowy | 45. Cukinia / kabaczek |
| 16. Przepraszam | 46. Siostrą |
| 17. Drużyna snów | 47. św. Jana Chrzciciela |
| 18. Lepiej późno niż wcale | 48. Poncjusz Piłat |
| 19. Bardzo ważna osoba | 49. Myron, „Dyskobol” |
| 20. Gwieździsty sztandar | 50. Leonardo da Vinci, „Madonna wśród
skał” |
| 21. Joński | 51. św. Teresa |
| 22. Fosa | 52. Sokrates |
| 23. Gargulce | |
| 24. Cokół / piedestał / postument | 53-56 |
| 25. Mozaika | A Wielka Brytania / Anglia |
| 26. Okrągły | B Szwecja |
| 27. Katana | C Łotwa |
| 28. Bagnet | D Dania |
| 29. F-117 | |
| 30. The Beatles | 57-60 |
| | Poprawność należy sprawdzić z pomocą
atlasu geograficznego. |