

MATURUS 2023
egzamin finałowy dla szkoły podstawowej
KLASA 8

Sprawdź czy arkusz jest dobrze wydrukowany. Pisz konkretnie i czytelnie. Używaj długopisu lub pióra koloru czarnego bądź niebieskiego. Nie używaj korektora. Odpowiedź błędną skreśl i obok napisz właściwą. Działania matematyczne wykonaj w wolnym miejscu arkusza. Gdy pytanie dotyczy podania jakiejś osoby, zawsze podaj imię i nazwisko. Nazwiska obce o trudnej pisowni można zapisywać fonetycznie (np. Szekspir).

1. Podaj tytuł i autora melodii nr 1
2. Podaj tytuł i autora melodii nr 2
3. Podaj tytuł i autora melodii nr 3
4. Podaj tytuł i autora melodii nr 4
5. Podaj tytuł i autora melodii nr 5
6. Podaj tytuł i autora melodii nr 6
7. Podaj tytuł i autora melodii nr 7
8. Podaj tytuł i autora melodii nr 8
9. Jak nazywamy grecką boginię sprawiedliwości, z mieczem i wagą w rękach?
10. Kim w mitologii greckiej był Priam?
11. Dokończ przysłowie: „Nie wylewajmy...
12. Co oznacza frazeologizm „bajońskie sumy”?
13. Kto napisał „Quo vadis”?
14. Podaj tytuł jednej książki Janusza Korczaka.
15. Która księga Biblii jest oznaczona skrótem „Wj”?
16. Kim byli Sem, Cham i Jafet?
17. Co oznacza skrót „tzw.”?
18. Jaką słynną książkę napisał Stanisław Lem?
19. Kto napisał słowa: „Miłość cierpliwa jest, łaskawa jest. Miłość nie zazdrości, nie szuka poklasku, nie unosi się pychą; nie dopuszcza się bezwstydu...”?
20. Jaki tytuł nosi pieśń, w której są słowa: *Ty, któryś potem tknięty jej upadkiem, wspierał walczących za najświętszą sprawę i chcąc świat cały mieć jej męstwa świadkiem w nieszczęściach samych pomnażał jej sławę.*
21. Podaj daty i wydarzenia zaczynające i kończące średniowiecze.
22. Jaka rocznica przypada 1 sierpnia?
23. Kiedy jest Święto Wszystkich Świętych?
24. W którym kraju panował król Cyrus II Wielki?
25. Czym jest dżihad?
26. Gdzie rozegrała się Bitwa Narodów?
27. W jakich latach była wojna secesyjna?
28. Jak nazywał się hetman, który wygrał w bitwie pod Kircholmem?
29. Co się wydarzyło w roku 1772?
30. W którym roku zaczął się potop szwedzki?
31. Premier, który założył Bank Polski i Złotówkę
32. Co oznacza skrót PZPR?
33. Jaki pseudonim nosił major Zygmunt Szendzielarz?
34. Kto był pierwszym człowiekiem na księżycu?
35. Z którym krajem należy kojarzyć Pol Pota?
36. Kto był przywódcą ZSRR w czasie kryzysu kubańskiego?



37. Zadanie za 2 punkty. Zapisz na mapie nazwy miast.

39. Wymień trzy zawody zaliczane do sektora usług.
40. Które dwie religie najczęściej ścierają się w Indiach?
41. Jak nazywamy najbardziej zaawansowany ośrodek przemysłu high-tech w USA?
42. Wymień dwa kraje na Półwyspie Indochińskim.
43. Na którym oceanie znajdują się Wyspy Galapagos?
44. Kto stoi na czele Komisji Europejskiej?
45. Co oznacza skrót UOKiK?
46. Które ministerstwo odpowiada za budowę dróg?
47. Na której półkuli znajduje się zwrotnik raka?
48. Które dwa kraje mają najpotężniejszy arsenał nuklearny?
49. Czym jest anatomia?
50. Wymień jeden organizm należący do parzydełkowców.
51. Do którego typu stawonogów należą kleszcze?
52. Do której grupy zwierząt należą małże?
53. Podaj tytuł jednego z przebojów Johna Lennona.
54. Podaj kraj i wiek, w którym powstała piłka nożna.
55. Ile trwa jedna połowa meczu w piłce ręcznej?
56. Jak nazywamy grę, której uderza się piłkę długim kijem jeżdżąc konno?
57. W którym kraju powstała sztuka walki taekwondo?
58. Który specjalista leczy wady szkieletu?
59. Kogo leczy geriatra?
60. Przetłumacz outsider –
61. Przetłumacz thriller –
62. Przetłumacz geschäft -
63. Przetłumacz volenti non fit iniuria -
64. Czym jest akronim?
65. Ile razy mistrzem świata F1 był Michael Schumacher?
66. Jak nazywa się najbardziej utytułowany pływak na świecie?
67. Do czego służy przycisk F5 na klawiaturze komputera?
68. Podaj nazwę popularnego programu do archiwizacji danych.
69. Oblicz pisemnie: $61494 : 831 =$

70. Ile jest gramów w 1/4 tony?

71. Kto wynalazł telegraf elektromagnetyczny?

72. Ile lat minęło między śmiercią Cezara w XLIV r. p.n.e., a śmiercią Bolesława Chrobrego w MXXV r.? Wynik podaj w liczbie arabskiej i rzymskiej.

73. Jakim procentem z liczby 8040, jest liczba 1540?

74. W wyścigu brały udział cztery samochody – czarny, biały, srebrny i granatowy. Wskaż, w jakiej kolejności samochody dojechały na metę, uwzględniając następujące fakty:

- samochód srebrny dojechał na metę bezpośrednio po samochodzie granatowym i nie był ostatni na mecie,
- samochód biały nie dotarł na metę jako pierwszy,
- samochód czarny nie dotarł na metę jako ostatni.

75. Przed Tobą znajduje się ciąg cyfr: 1 2 3 4 5 6 7 8 9. Pomiedzy cyframi mozesz umieścić znak dodawania, odejmowania, mnożenia i dzielenia. Mozesz również nie wstawiać żadnego ze znaków – wówczas cyfry, które znajdują się obok siebie, połączą się (np. 5 i 6 dadzą 56). Czy w ten sposób jesteś w stanie ułożyć równanie, którego wynik da 100?

PODPISZ ILUSTRACJE:



76



77



78



79



80



81




82



83



84



85



86



87



88



89



90



91



92



93




94



95



96




97



98



99



100