

Sprawdź czy arkusz jest dobrze wydrukowany. Pisz konkretnie i czytelnie. Używaj długopisu lub pióra koloru czarnego bądź niebieskiego. Nie używaj korektora. Odpowiedź błędną skreśl i obok napisz właściwą. Działania matematyczne wykonaj w wolnym miejscu arkusza. Gdy pytanie dotyczy podania jakiejś osoby, zawsze podaj imię i nazwisko. Nazwiska obce o trudnej pisowni można zapisywać fonetycznie (np. Szekspir). Gdy pytanie dotyczy utworu muzyczne, należy koniecznie podać autora i tytuł, chyba że jedno z tych dwóch jest nieznane.

1. Na jakiej górze osiadła Arka Noego
2. Na czym Jezus doradzał, aby budować dom?
3. Jaką słynną piosenkę napisał Jacek Kaczmarski?
4. Kto dowodził polską armią w bitwie pod Monte Cassino?
5. W którym kraju władzę przejął dyktator Augusto Pinochet?
6. Co oznacza skrót ZOMO?
7. W którym roku Kościół Katolicki zorganizował obchody Millenium Chrztu Polski?
8. Dokończ zdanie Jana Pawła II: „Niech zstąpi duch Twój i
9. Co oznacza skrót PSL?
10. Które ministerstwo odpowiada za zbieranie podatków?
11. Co oznacza skrót ZUS
12. Kim jest abstynent?
13. Czym jest agnostycyzm?
14. Na którym kontynencie znajduje się Góra Kościuszki?
15. Na którym oceanie znajduje się Wyspa Wielkanocna
16. W której dyscyplinie sportu święcił triumfy Robert Korzeniowski?
17. Słynna książka Aleksandra Kamińskiego?
18. Kto napisał książkę pt.: „Stary człowiek i morze”?
19. Co oznacza skrót n. p. m.?
20. Kto założył fabrykę maszyn rolniczych w Poznaniu?
21. Wymień dwie książki Henryka Sienkiewicza.
22. Czym była NSDAP?
23. Kto reprezentował Polskę na Kongresie Wiedeńskim w 1919 roku?
24. Co oznacza skrót COP?
25. Co oznacza heerensfolk?
26. Co oznacza: Roma locuta causa finita?
27. Nad którym morzem znajduje się Cieśnina Bosfor?
28. Częścią którego układu organizmu człowieka są aorty?
29. Który lekarz specjalista leczy ludzi starszych?
30. Która kość biegnie równolegle do kości łokciowej?
31. W którym kraju najbardziej popularne są wyścigi NASCAR?
32. Dokończ: „Grosz do grosza, a
33. W jaki sposób zginął Ludwik XVI?

34. W skład którego kraju europejskiego wchodzi Walia?
35. Do jakiej grupy stawonogów należą motyle, muchy, pchły i ważki?
36. W której dyscyplinie sportu święcił triumfy Mike Tyson?
37. Jak nazywała się świątynia bogini Ateny na Akropolu?
38. Podaj tytuł pieśni, w której padają następujące słowa: „Powstała z grobu na Twe władne
słowo / Polska, wolności narodów chorąży, / Pierzchnęły straże, a ponad jej głową / Znowu
swobodnie Orzeł Biały krąży. / Przed Twe ołtarze...”
39. Oblicz w wolnym miejscu arkusza i podaj wynik $4992 : 96 = \dots\dots\dots$
40. Zapisz w liczbie rzymskiej 2639 -
41. Obwód prostokąta wynosi 43 cm, a jeden z jego boków ma długość 10 cm. Oblicz pole tego
prostokąta.
42. Co skonstruował George Stephenson?
43. Jaki skrót klawiszowy zaznacza cały tekst na stronie?
44. Ile decymetrów sześciennych jest w trzystu hektolitrach?

NAPISZ TUTAJ CO WIDAĆ NA ILUSTRACJACH (nie pisz pod ilustracjami)

- | | |
|-----|-------------|
| 45. | 63. |
| 46. | 64. |
| 47. | 65. |
| 48. | 66. |
| 49. | 67. |
| 50. | 68. |
| 51. | 69. |
| 52. | 70. |
| 53. | 71. Utwór A |
| 54. | |
| 55. | 72. Utwór B |
| 56. | |
| 57. | 73. Utwór C |
| 58. | |
| 59. | 74. Utwór D |
| 60. | |
| 61. | 75. Utwór E |
| 62. | |



45



46




47




48



49



50



51



52



53



54



55



56



57



58



59



60



61



62



63




64



65



66



67

68



69



70