

KOD

--	--	--

DATA URODZENIA

--	--	--	--	--	--	--	--

dzień      miesiąc      rok

**MATURUS 2012/2013**  
**egzamin eliminacyjny dla gimnazjum**


Sprawdź czy arkusz jest dobrze wydrukowany. Pisz konkretnie i czytelnie. Używaj długopisu lub pióra o kolorze czarnym bądź niebieskim. Nie używaj korektora. Odpowiedź błędną skreśl i obok zapisz właściwą. Działania matematyczne wykonaj w wolnym miejscu arkusza. Gdy pytanie dotyczy podania jakiejś osoby, zawsze podaj imię i nazwisko. Nazwiska obce o trudnej pisowni można zapisywać fonetycznie (np. Szekspir).

**Czas 60 minut.**

***Powodzenia!***

1. Imię greckiej bogini łowów.
2. Co oznacza określenie „puszka Pandory”?
3. Kto pomógł Odyseuszowi wykraść palladion i w ten sposób podbić Troję?
4. Którą księgę Biblii oznacza skrót 1 Tes?
5. Kto był mężem Rebeki?
6. Co zrobiła Dalila, by pozbawić Samsona siły?
7. Ile dni Jezus pościł na pustyni?
8. Dokończ słowa Jezusa: „Proście, a ....., szukajcie, a .....,
9. Pierwsze imię św. Pawła, autora listów z Nowego Testamentu.
10. Przetłumacz: “Grand Orient de France” -
11. Co to jest Federal Reserve?
12. Który władca Polski został koronowany w 1076r.?
13. Który władca Polski założył Radę Królewską?
14. Podaj datę śmierci Bolesława Krzywoustego.
15. Czyj pomnik stoi dzisiaj przed Pałacem Prezydenckim?
16. Jak nazywa się dzwon wiszący na wieży katedry wawelskiej?
17. Przetłumacz: „et tu, Brute, contra me” –
18. Przetłumacz „in flagranti” –
19. Podaj brzmienie łacińskiej sentencji oznaczającej „białą kartę”.
20. Wymień co najmniej dwie cechy charakteryzujące styl romański.
21. Podaj tytuł pieśni, z której pochodzą słowa: „Ojczyznę, wolność, racz nam wrócić, Panie”.
22. Dokończ słowa refrenu pieśni „Warszawskie dzieci”: „*Warszawskie dzieci, ....., Za każdy kamień twój, ....., Warszawskie dzieci, ....., Gdy padnie rozkaz twój, .....,!*”
23. Zapisz w wolnym miejscu arkusza całą trzecią zwrotkę „Mazurka Dąbrowskiego”.
24. Podaj tytuł słynnego obrazu, który namalował Franciszek Goya?
25. Kto namalował słynny obraz „Koronacja Napoleona”?

26. Na mapie Ameryki Południowej w skali 1:36 000 000 między Buenos Aires, a Brasilią jest 6,5 centymetrów. Ile kilometrów w linii prostej dzieli oba miasta?
27. Jeśli przyjąć, że komunizm w Rosji zapanował w MCMXVII r., a skończył się w MCMXCI. Ile lat Rosja była komunistyczna? Wynik podaj w licznie rzymskiej.
28. Janek kupił książkę za 36 zł. Sprzedał ją koledze, za  $\frac{2}{3}$  jej wartości, a ten sprzedał ją w antykwariacie za  $\frac{3}{8}$  sumy, którą zapłacił Jankowi. Ile wydał na książkę właściciel antykwariatu?
29. Nazywa państwa A.....
30. Nazywa państwa B.....
31. Nazwa zatoki, nad którą leży państwo D? .....
32. Nazwa zatoki, nad którą leży państwo E? .....
33. Nazywa państwa F.....
34. Nazywa państwa G.....
35. Nazwa oceanu, nad którym leży państwo H? .....
36. Zaznacz na mapie Europy Morze Północne.
37. Zaznacz na mapie Europy wyspę Bornholm.
38. Zaznacz na mapie świata wyspę Taiwan
39. Zaznacz na mapie świata Półwysep Koreański
40. Ilustracja A. Podaj imię boga greckiego z sierpem w dłoni.
41. Ilustracja B. Imię rzymskiego boga przedstawionego poprzez rzeźbę.
42. Ilustracja C. Imię człowieka bez korony cierniowej?
43. Ilustracja C. W którym wieku miało miejsce to wydarzenie?
44. Do czego służą przedmioty widoczne na ilustracji D?
45. Imię człowieka, który wkłada palec w ranę na ilustracji E.
46. Nazwa miasta, w którym znajduje się budowla na ilustracji F.
47. Nazwa instrumentu na ilustracji G.
- Ilustracje I – K. Podaj nazwy widocznych dzieł i ich autorów.
48. I .....
49. J .....
50. K .....
51. Nazwa pomnika widocznego na ilustracji L.
52. Nazwa budynku, przed którym stoi pomnik z ilustracji M.
53. Imię i nazwisko autora dzieła pt.: „Reduta Ordony”.
54. Kto napisał dzieło pt.: „Lew, czarownica i stara szafa”?
55. Kto napisał słynne starożytne dzieło filozoficzne pt.: „Państwo”?
56. Wymień dwa dzieła Williama Szekspira.
57. Wymień jedno z dzieł Aleksandra Fredry.
58. Nazwa trójkątnej łopatkii do smarowania cegieł zaprawą murarską?
59. Autor opery „Wesele Figara”.
60. Który zespół napisał utwór „Stairway to Heaven”?




A




B



C




D



E



F



G



I



J



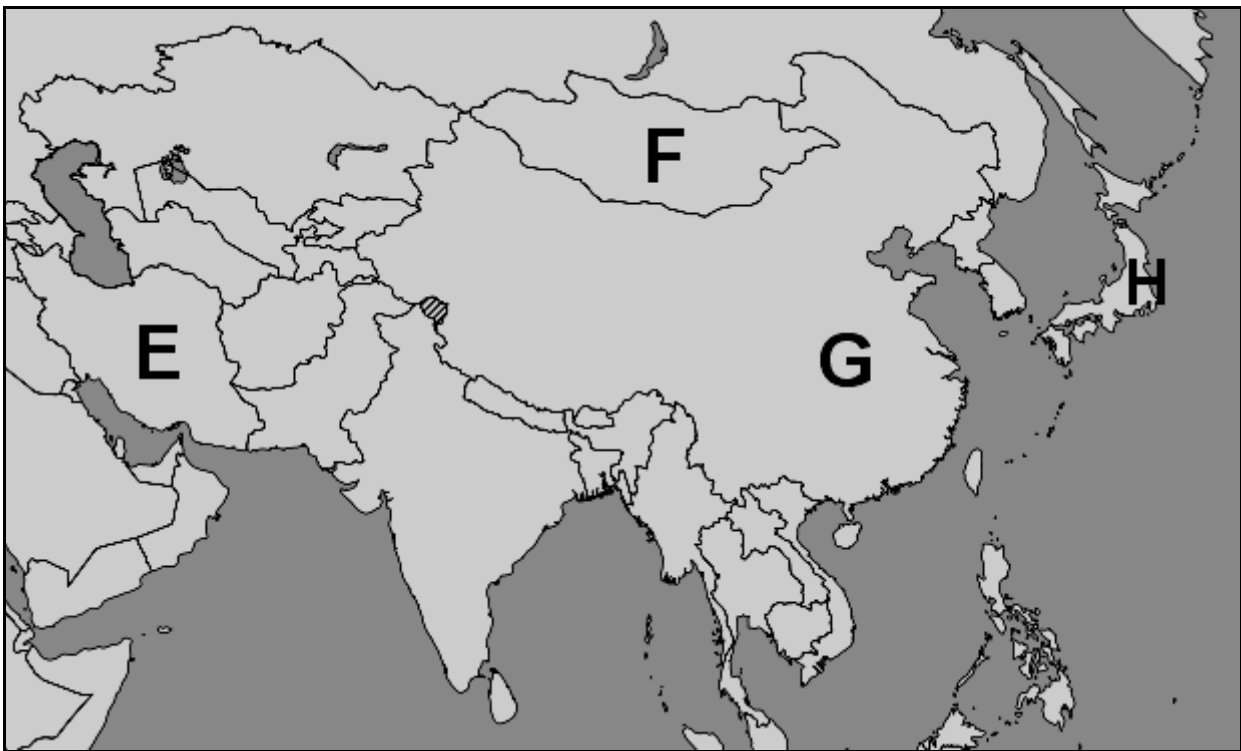
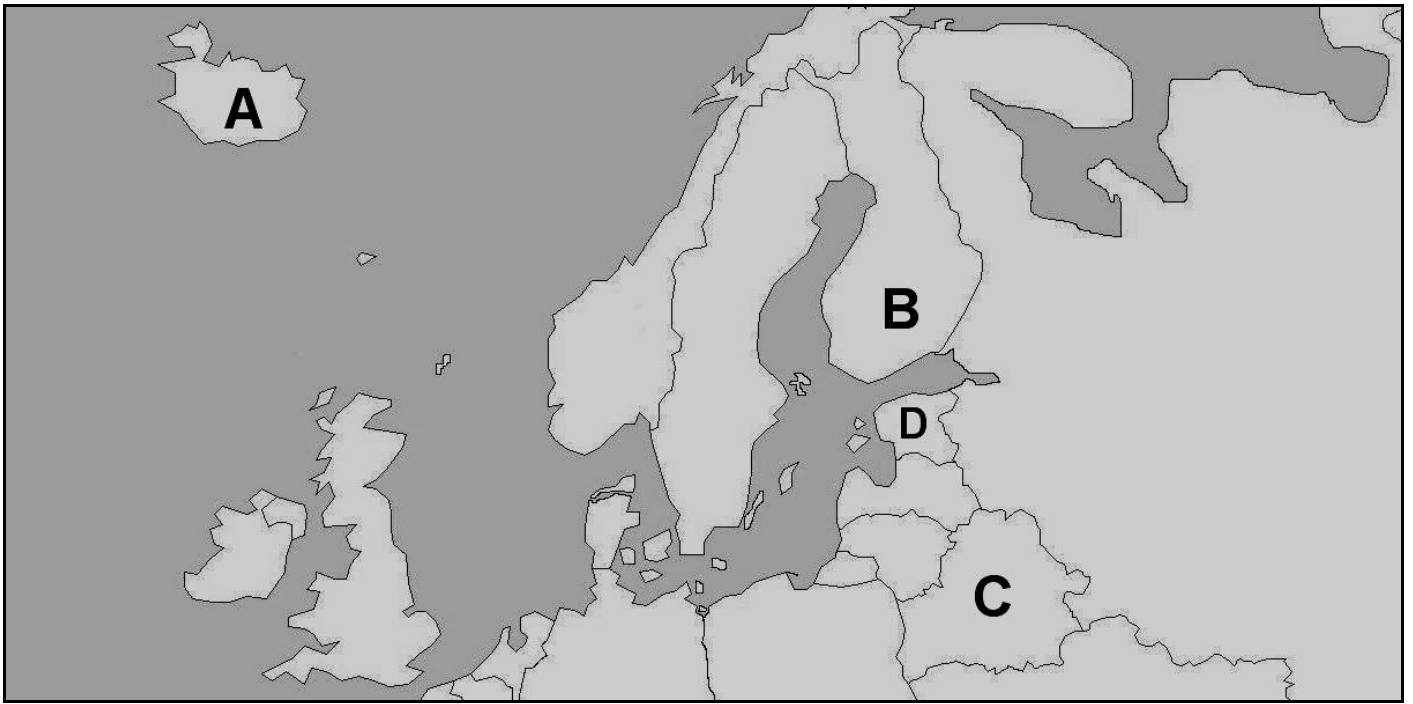
K



L



M



BRUDNOPIS

## KLUCZ

**Sprawdzając odpowiedzi należy kierować się uczciwością, zdrowym rozsądkiem i życzliwością wobec ucznia.** Jeżeli odpowiedź nie jest identyczna z podaną w kluczu, ale jej sens jest prawidłowy, można przyznać punkt. W przypadku odpowiedzi połowicznie poprawnych, można przyznać pół punktu. Na przykład, gdy uczeń nie poda imienia, ale poda właściwe nazwisko albo, gdy tylko lekko przekreśli nazwisko lub zrobi literówkę. Nie dajemy punktu, gdy poda imię, a nie poda nazwiska lub je przekreśli zupełnie. Gdy pytanie wymaga podania dwóch odpowiedzi (np. osoby sportowca i dyscypliny, którą uprawiał), a uczeń poda prawidłowo tylko jedną z nich, też dajemy pół punktu. Uznajemy nazwiska zapisane fonetycznie. W razie szczególnych trudności konsultujemy się z Komisją Konkursową.

1. Artemida
2. Nieszczęścia
3. Helena
4. 1 list św. Pawła do Tesaloniczan
5. Izaak
6. Obcięła mu włosy
7. 40
8. Proście, a otrzymacie, szukajcie, a znajdziecie
9. Szawel
10. Wielki Wschód Francji
11. amerykański Bank Centralny; w skrócie FED
12. Bolesław Śmiały / Szczodry
13. Kazimierz Wielki
14. 1138 r.
15. Księżę Józef Poniatowski
16. Dzwon Zygmunta
17. I ty, Brutusie, przeciwko mnie
18. Na gorącym uczynku
19. Tabula rasa
20. Małe okna, półmrok w środku, mało ozdób, kamienne mury, ciężka sylwetka, funkcja obronna i in.
21. „Boże, coś Polskę”
22. Warszawskie dzieci, pójdziemy w bój, Za każdy kamień twój, stolico, damy krew. Warszawskie dzieci, pójdziemy w bój, Gdy padnie rozkaz twój, poniesiem wrogom gniew!
23. Jak Czarniecki do Poznania  
Po szwedzkim zaborze,  
Dla ojczyzny ratowania  
Wrócim się przez morze.
24. „Kolos” , „Rozstrzelanie powstańców madryckich”
25. Jacques Louis David
26. 2340 km
27. LXXIV
28. 9 zł
29. Islandia
30. Finlandia
31. Fińska
32. Perska
33. Mongolia
34. Chiny
35. Spokojny
36. Zaznacz na mapie Europy Morze Północne.
37. Zaznacz na mapie Europy wyspę Bornholm.
38. Zaznacz na mapie Świata wyspę Taiwan
39. Zaznacz na mapie Świata Półwysep Koreański
40. Zeus
41. Eskulap
42. Szymon
43. I wiek
44. Do mielenia zboża / to koła młyńskie / to części młyna
45. Święty Tomasz / niewierny Tomasz
46. Wrocław
47. Fletnia
48. Leonardo da Vinci „Ostatnia wieczerza”
49. Michelangelo Caravaggio „Ukrzyżowanie św. Piotra”
50. Pablo Picasso „Guernica”
51. Pomnik Małego Powstańca
52. Pawiak
53. Adam Mickiewicz
54. Clive Staples Lewis / może być też C.S. Lewis
55. Platon
56. „Romeo i Julia”, „Hamlet”, „Makbet”, „Otello” itd.
57. „Zemsta”, „Śluby panieńskie”
58. Kielnia
59. Wolfgang Amadeusz Mozart
60. Led zeppelin