

KOD

--	--	--

DATA URODZENIA

dzień		miesiąc		rok			

**MATURUS 2012/2013**  
**egzamin eliminacyjny dla szkoły podstawowej**

Sprawdź czy arkusz jest dobrze wydrukowany. Pisz konkretnie i czytelnie. Używaj długopisu lub pióra o kolorze czarnym bądź niebieskim. Nie używaj korektora. Odpowiedź błędną skreśl i obok zapisz właściwą. Działania matematyczne wykonaj w wolnym miejscu arkusza. Gdy pytanie dotyczy podania jakiejś osoby, zawsze podaj imię i nazwisko. Nazwiska obce o trudnej pisowni można zapisywać fonetycznie (np. Szekspir).

**Czas 60 minut.**

***Powodzenia!***

1. Wymień trzy siostry Zeusa.
2. Co zrobił Orfeusz, by Cerber wpuścił go – żywego – do Hadesu?
3. Podaj imię greckiego boga złodziei i kupców.
4. Na czym polegała dwunasta praca Heraklesa?
5. Kto wymyślił podstęp z koniem trojańskim?
6. Który z zalotników naciągnął łuk Odyseusza?
7. Podaj imię greckiej bogini łowów.
8. Co oznacza określenie „puszka Pandory”?
9. Podaj jeden atrybut Posejdona.
10. Kto pomógł Odyseuszowi wykraść palladion i w ten sposób podbić Troję?
11. Przetłumacz: “Grand Orient de France” -
12. Przetłumacz: “Tour de France” -
13. Przetłumacz: “knockout” -
14. Przetłumacz: „fifty-fifty” -
15. Co to jest Federal Reserve?
16. Co to jest walkower?
17. Wymień co najmniej dwie cechy charakteryzujące styl romański.
18. Podaj tytuł pieśni, z której pochodzą słowa: „Ojczyznę, wolność, racz nam wrócić, Panie”.
19. Dokończ słowa refrenu pieśni „Warszawskie dzieci”: „*Warszawskie dzieci, ..... , Za każdy kamień twój, ..... , ..... Warszawskie dzieci, ..... , Gdy padnie rozkaz twój, ..... !*”
20. Zapisz w wolnym miejscu arkusza całą trzecią zwrotkę „Mazurka Dąbrowskiego”.
21. Podaj tytuł obrazu Franciszka Goi?
22. Autor obrazu „Koronacja Napoleona”?
23. Autor wiersza dla dzieci „Stefek burczymucha”?
24. Podaj tytuł jednej z baśni Hansa Christiana Andersena.


25. Na mapie Ameryki Południowej w skali 1:36 000 000 między Buenos Aires, a Brasilią jest 6,5 centymetrów. Ile kilometrów w linii prostej dzieli oba miasta?
26. Jeśli przyjąć, że komunizm w Rosji zapanował w MCMXVII r., a skończył się w MCMXCI. Ile lat Rosja była komunistyczna? Wynik podaj w licznie rzymskiej.
27. Janek kupił książkę za 36 zł. Sprzedał ją koledze, za  $\frac{2}{3}$  jej wartości, a ten sprzedał ją w antykwariacie za  $\frac{3}{8}$  sumy, którą zapłacił Jankowi. Ile wydał na książkę właściciel antykwariatu?
28. Podaj nazwę państwa A? .....
29. Podaj nazwę państwa B? .....
30. Podaj nazwę państwa C? .....
31. Podaj nazwę państwa D? .....
32. Podaj nazwę państwa E? .....
33. Podaj nazwę państwa F? .....
34. Podaj nazwę państwa G? .....
35. Podaj nazwę państwa H? .....
36. Zaznacz na mapie Europy Holandię.
37. Zaznacz na mapie Europy Norwegię.
38. Zaznacz na mapie Europy Łotwę.
39. Zaznacz na mapie Europy Danię.
40. Zaznacz na mapie świata Pakistan.
41. Zaznacz na mapie świata Afganistan.
42. Zaznacz na mapie świata Kazachstan.
43. Zaznacz na mapie świata Kambodżę.
44. Ilustracja A. Podaj imię boga greckiego z sierpem w dłoni.
45. Ilustracja A. Co znajduje się w zawiniątku trzymanym przez boginię?
46. Ilustracja B. Nazwa miasta, w którym znajdował się ten posąg?
47. Ilustracja C. Którego boga rzymskiego przedstawia ta rzeźba?  
Ilustracja D. Wymień postacie z mitologii greckiej widoczne na tym obrazie w kolejności od lewej:
48. ....,
49. ....,
50. ....,
51. ....
52. Ilustracja E. Nazwij dwa wskazane elementy architektoniczne.
53. Ilustracja F. Nazwij ten rodzaj sklepienia?
54. Ilustracja G. Nazwij ten rodzaj ozdoby na kamienicach?  
Ilustracje I – K. Podaj nazwy widocznych dzieł.
55. I .....
56. J .....
57. K .....
- Ilustracje L – N. Podaj nazwy widocznych dzieł i ich autorów.
58. L .....
59. M .....
60. N .....



A



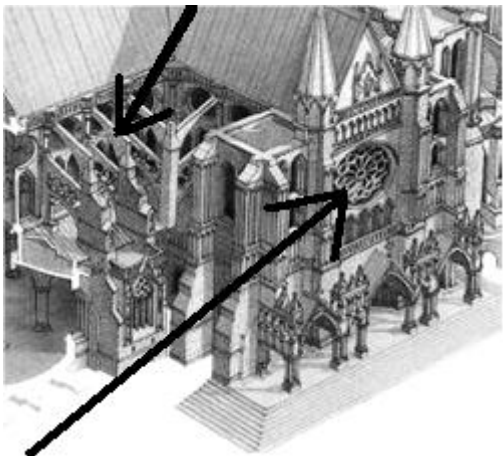
B




C



D



E



F



G



I



J



K



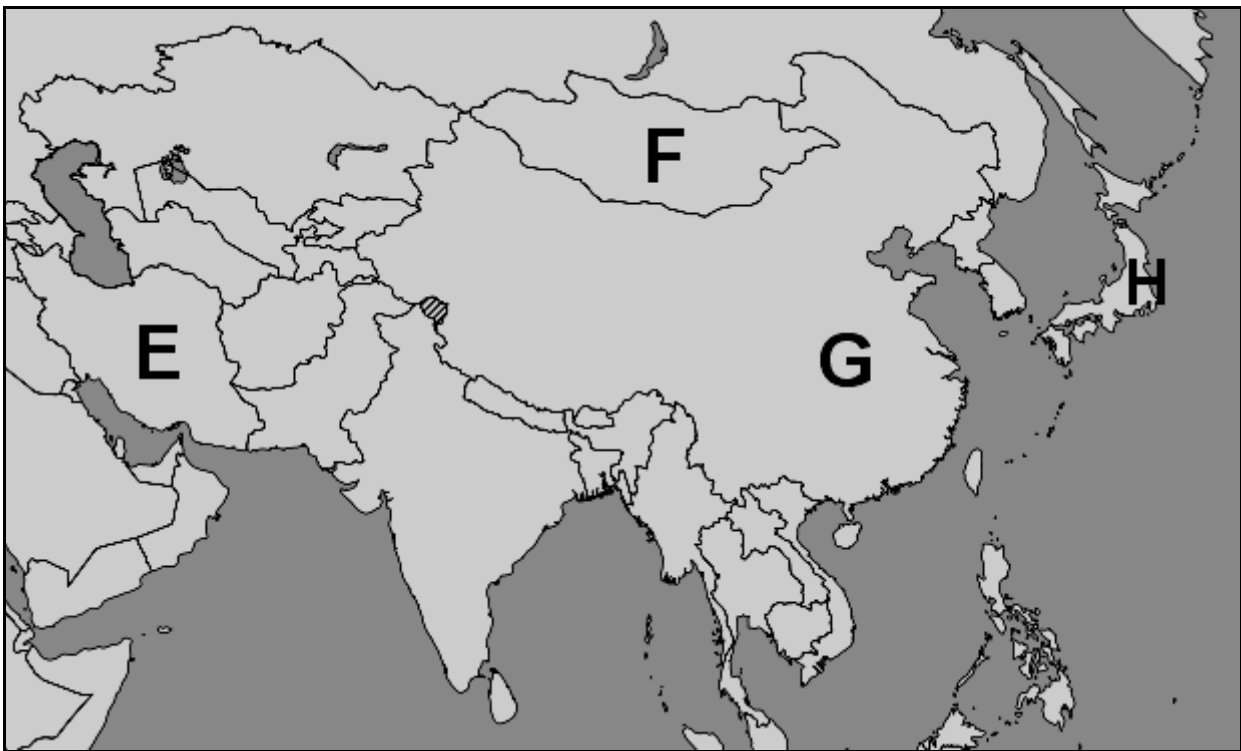
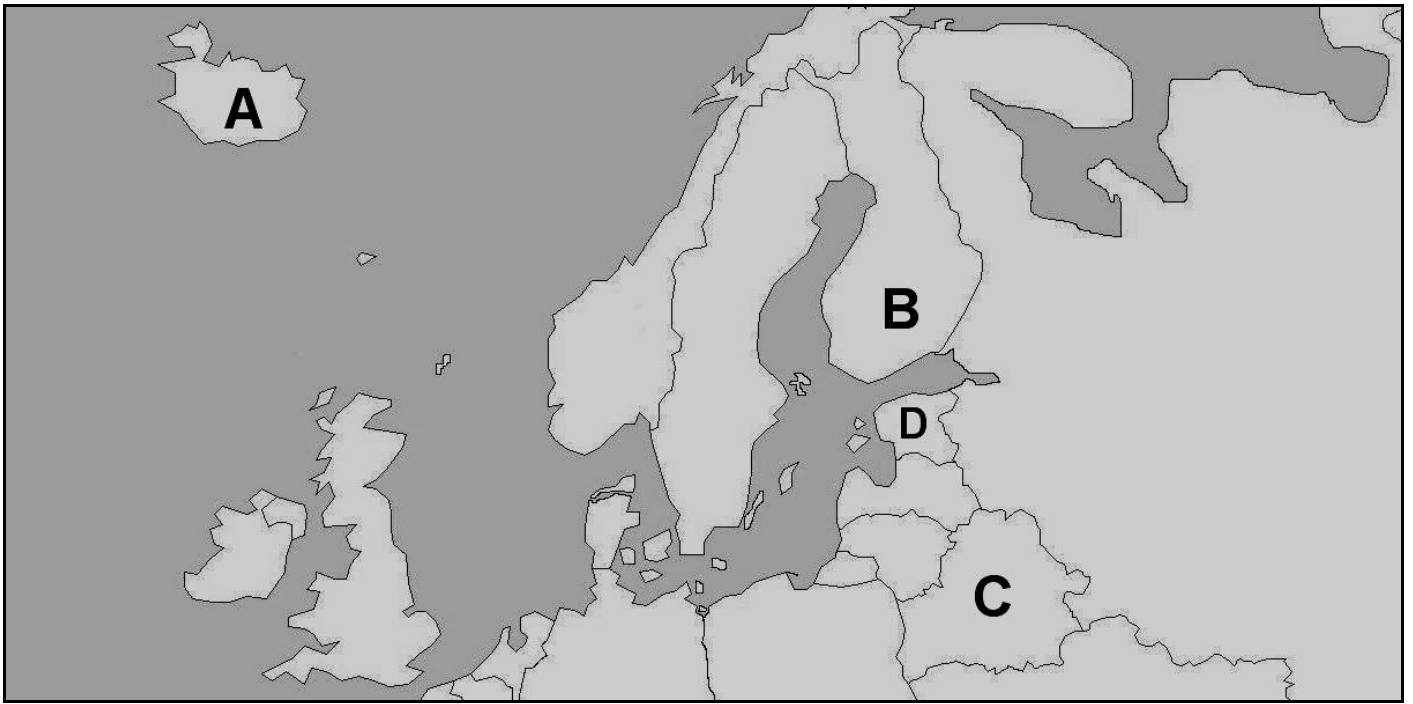
L



M



N



BRUDNOPIS

## KLUCZ

**Sprawdzając odpowiedzi należy kierować się uczciwością, zdrowym rozsądkiem i życzliwością wobec ucznia.** Jeżeli odpowiedź nie jest identyczna z podaną w kluczu, ale jej sens jest prawidłowy, można przyznać punkt. W przypadku odpowiedzi połowicznie poprawnych, można przyznać pół punktu. Na przykład, gdy uczeń nie poda imienia, ale poda właściwe nazwisko albo, gdy tylko lekko przekreśli nazwisko lub zrobi literówkę. Nie dajemy punktu, gdy poda imię, a nie poda nazwiska lub je przekreśli zupełnie. Gdy pytanie wymaga podania dwóch odpowiedzi (np. osoby sportowca i dyscypliny, którą uprawiał), a uczeń poda prawidłowo tylko jedną z nich, też dajemy pół punktu. Uznajemy nazwiska zapisane fonetycznie. W razie szczególnych trudności konsultujemy się z Komisją Konkursową.

1. Hera, Demeter, Hestia 27. 9 zł
2. Pięknie grał 28. Islandia
3. Hermes 29. Finlandia
4. Przyprować Cerbera 30. Białoruś
5. Odyseusz 31. Estonia
6. Żaden 32. Iran
7. Artemida 33. Mongolia
8. Nieszczęścia 34. Chiny
9. Trójzab 35. Japonia
10. Helena 36. Zaznacz na mapie Europy Holandię.
11. Wielki Wschód Francji 37. Zaznacz na mapie Europy Norwegię.
12. Wyścig kolarski dookoła Francji 38. Zaznacz na mapie Europy Łotwę.
13. Zwycięstwo przez powalenie 39. Zaznacz na mapie Europy Danię.
14. Równy, pół na pół 40. Zaznacz na mapie Świata Pakistan.
15. amerykański Bank Centralny; w skrócie FED 41. Zaznacz na mapie Świata Afganistan.
16. Zwycięstwo przez brak przeciwnika 42. Zaznacz na mapie Świata Kazachstan.
17. Małe okna, półmrok w środku, mało ozdób, kamienne mury, ciężka sylwetka, funkcja obronna i in. 43. Zaznacz na mapie Świata Kambodżę.
18. „Boże, coś Polskę” 44. Zeus
19. Warszawskie dzieci, pójdziemy w bój, Za każdy kamień twój, stolico, damy krew. Warszawskie dzieci, pójdziemy w bój, Gdy padnie rozkaz twój, poniesiem wrogom gniew! 45. Kamień
20. Jak Czarniecki do Poznania Po szwedzkim zaborze, Dla ojczyzny ratowania Wrócim się przez morze. 46. Olimpia
21. „Kolos” , „Rozstrzelanie powstańców madryckich 3 V 1808” 47. Eskulap  
Ilustracja D. Wymień postacie z mitologii greckiej widoczne na tym obrazie w kolejności od lewej:
22. Jacques Louis David 48. Orfeusz
23. Maria Konopnicka 49. Eurydyka
24. „Nowe szaty cesarza” „Księżniczka na ziarnku grochu” „Brzydkie kaczątko” „Dziewczynka z zapałkami” 50. Hades
25. 2340 km 51. Persefona
26. LXXIV 52. Przypora i rozeta
53. Sieciowe
54. Attyki  
Ilustracje I – K. Podaj nazwy widocznych dzieł.
55. Wenus z Willendorfu
56. Wilczyca kapitolńska
57. Moai na Wyspie Wielkanocnej  
Ilustracje L – N. Podaj nazwy widocznych dzieł i ich autorów.
58. Leonardo da Vinci „Ostatnia wieczerza”
59. Michelangelo Caravaggio „Ukrzyżowanie św. Piotra”
60. Pablo Picasso „Guernica”