

KOD

--	--	--

DATA URODZENIA

dzień		miesiąc			rok		

MATURUS 2012/2013
egzamin finałowy dla szkoły podstawowej

Sprawdź czy arkusz jest dobrze wydrukowany. Pisz konkretnie i czytelnie. Używaj długopisu lub pióra o kolorze czarnym bądź niebieskim. Nie używaj korektora. Odpowiedź błędną skreśl i obok zapisz właściwą. Działania matematyczne wykonaj w wolnym miejscu arkusza. Gdy pytanie dotyczy podania jakiejś osoby, zawsze podaj imię i nazwisko. Nazwiska obce o trudnej pisowni można zapisywać fonetycznie (np. Szekspir).

Czas – 100 minut.

Powodzenia!

1. Autorka wiersza „Rota”.
2. Autor bajki pt.: „Kruk i lis”.
3. Tytuł jednej z bajek braci Grimm.
4. Mąż bogini Rei.
5. Żona Epimeteusza.
6. Kto porwał Persefonę?
7. Grecki bóg, którego atrybutem była fletnia.
8. Helios to bóg...
9. W jaki sposób Herakles wykorzystał żółć z wnętrzości zabitej hydry?
10. Jaki dar dał Dionizos królowi Midasowi?
11. Jakie zadanie miał do spełnienia Tezeusz na Krecie?
12. Podaj imię brata Agamemnona.
13. W jaki sposób Parys zabił Achilleusa?
14. Podaj imię rzymskiej bogini, odpowiedniczki greckiej Nike.
15. Podaj imię greckiego boga, odpowiednika rzymskiego Bachusa.
16. Podaj jeden atrybut Dionizosa.
17. Komu Perseusz oddał głowę Meduzy?
18. Podaj imię ukochanej króla Cypru Pigmaliona.
19. Kto dowodził wyprawą Argonautów?
20. Ile lat nie było Odyseusza w domu?
21. Jaką zdolność posiadał Perseusz, gdy założył buty otrzymane od trzech gracji?
22. Przetłumacz: „Madame” -
23. Przetłumacz: „carte blanche” –
24. Przetłumacz: „mainstream” –
25. Przetłumacz: „Central Intelligence Agency” –
26. Podaj angielski tytuł hymnu Wielkiej Brytanii.
27. Przetłumacz: “smile, you’re in candid camera” –
28. Autor „Hymnu do miłości ojczyzny”

29. Uzupełnij słowa pieśni patriotycznej z czasów zaborów: „*Płynie Wisła, płynie,*
*, a dopóki płynie,*

30. Podaj tytuł pieśni z czasów zaborów, która powstała po powstaniu krakowskim i tzw. rabacji galicyjskiej.
31. Z którego utworu pochodzą słowa: „*O Jezuu, a cóż to za wojacy?*”
32. Autor słów „Mazurka Dąbrowskiego”.
33. Jaki tytuł nosi piękna pieśń wojskowa opowiadająca o chłopaku, który dowiedziawszy się, że jego ukochana nie odwzajemnia jego uczucia, wstąpił do wojska i zginął na polu bitwy?
34. Nazwa rynku w starożytnym Rzymie?
35. Nazwa mównicy w kościele, z której niegdyś księża głosili kazania.
36. Podaj inne określenie na słowo sztukateria.
37. Nazwa pomieszczenia na samym dole twierdzy, często podziemnego, które w czasie konfliktu służy jako magazyny żywności i broni, a w czasach pokoju bywa wykorzystywane jako więzienie.
38. W której francuskiej miejscowości można zobaczyć słynne, prehistoryczne malowidła naskalne?
39. Podaj jeden obraz El Greco.
40. Podaj autora obrazu pt.: „Dama z łasiczką”.
41. Podaj autora obrazu pt.: „Kuszenie św. Antoniego”.
42. Podaj autora fresku w Kaplicy Sykstyńskiej pt.: „Sąd Ostateczny”.
43. Miedzy Damaszkiem, a Kabulem w linii prostej jest ok. 3000 kilometrów. Na mapie Bliskiego Wschodu oba miasta dzieli 10 centymetrów. Jaka jest skala owej mapy?
44. Wykonaj działanie i zapisz wynik liczbą rzymską:
 $CXLIX + MDXLIX - DLXXVII = \dots\dots\dots$
45. Żona chce wytapetować ścianę w pokoju o szerokości 5 m i wysokości 2,5 m. W ścianie są drzwi o powierzchni 2 m^2 . Ile całych rolek tapety musi kupić mąż, jeśli rolka ma 10 m długości i 0,5 m szerokości?
46. Nazwa skóry barana widocznej na ilustracji E.
47. Imię kobiety na ilustracji F.
48. W kim zakochana była kobieta z ilustracji F?
49. Tytuł rzeźby z ilustracji G.
50. Gniew którego boga greckiego ukazuje rzeźba z ilustracji G?
51. Nazwa skrzydlatego stworzenia z ilustracji H.
52. Imię stojącego mężczyzny z ilustracji H.
53. Nazwa obiektu architektonicznego z ilustracji I.
- 54 – 58** Zaznacz na ilustracji J:
 absydę, prezbiterium, transept, kaplicę i prawą nawę boczną.
59. Nazwa stylu, w którym została wykonana brama widoczna na ilustracji K.

60. W którym mieście znajduje się zamek widoczny na ilustracji L?

61. Który zakon zbudował zamek widoczny na ilustracji L?

62. Imię postaci przedstawionej na ilustracji M.

63 – 75 MUZYKA

nr 1 – podaj tytuł i wykonawcę

nr 2 – podaj tytuł i wykonawcę

nr 3 – podaj tytuł

nr 4 – podaj tytuł i autora

nr 5 – podaj tytuł

nr 6 – podaj tytuł

nr 7 – podaj tytuł

nr 8 – podaj tytuł

nr 9 – podaj tytuł

nr 10 – podaj tytuł

76 – 91 Tytuł i autor dzieła, którego fragment widać na ilustracji:

N

O

P

R

S

T

U

W

92 – 100 GEOGRAFIA

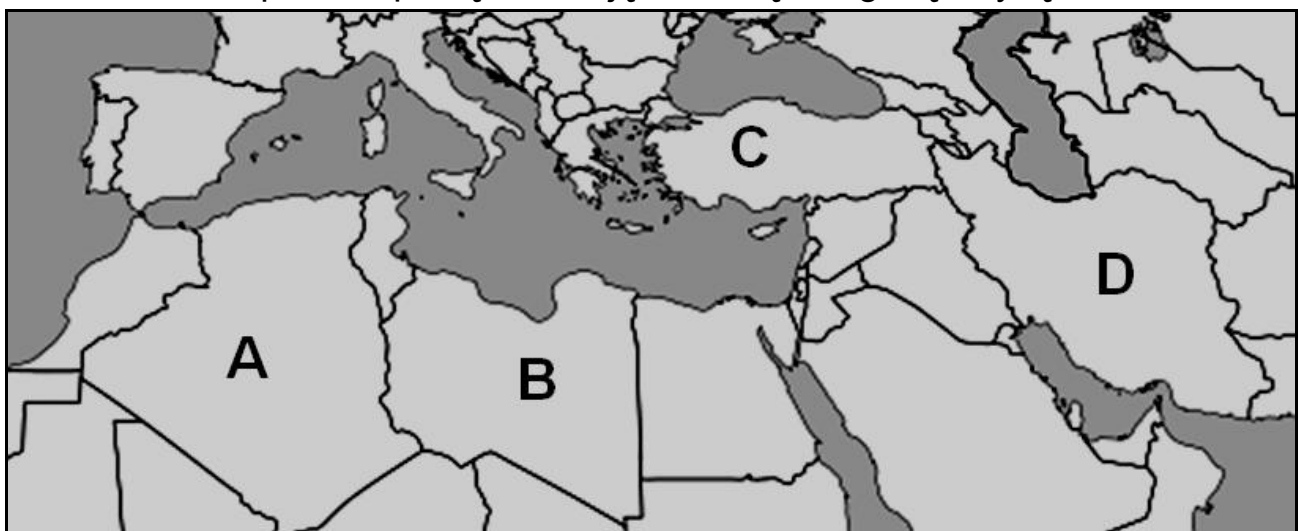
Państwo A

Państwo B


Państwo C

Państwo D

Zaznacz na mapie Hiszpanię, Tunezję, Albanie, Bułgarię i Syrię.




BRUDNOPIS




E



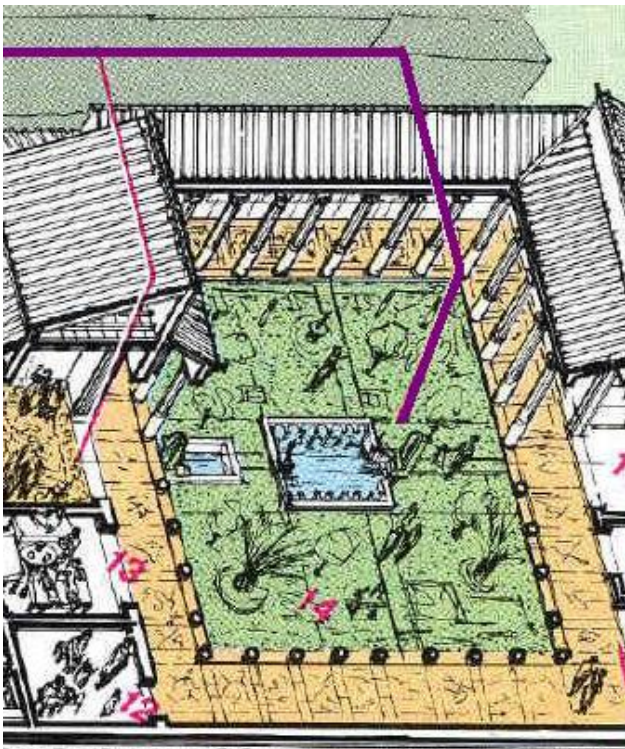
F



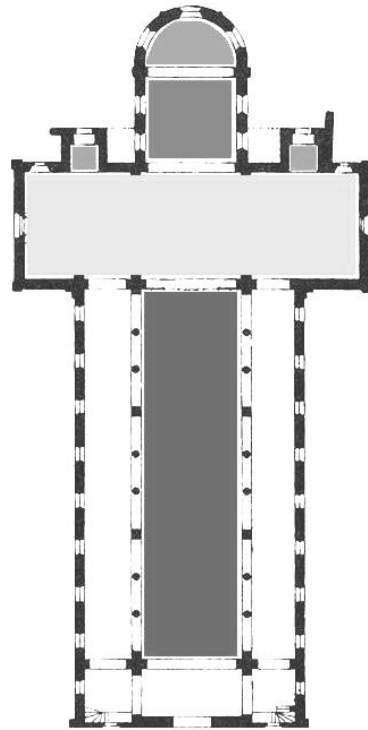
G




H



I



J



K




L



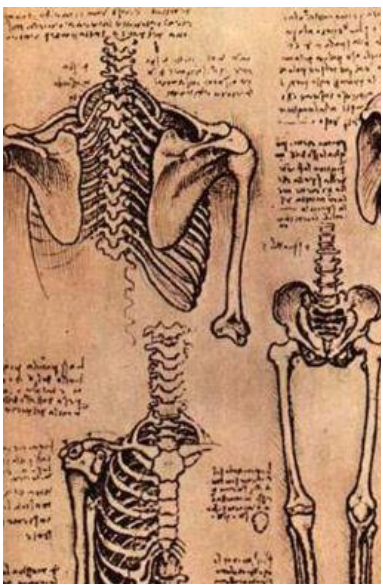
M



N



O




P



R




S



T



U



W